

چوتھا مہینا، پہلا ہفتہ، چوتھا دن

اسلیبس: باب نمبر 9: مویشی

سوال نمبر 1۔ درج ذیل سوالات کے مختصر جواب لکھیں۔

(3x2=6)

(i) مویشی کون پالتا ہے؟

-----

-----

(ii) ہمیں چمڑا کیسے حاصل ہوتا ہے؟

-----

-----

(iii) دودھ دینے والے جانوروں کا نام لکھیں۔


-----

-----

-----



سوال نمبر 2۔ نیچے دی گئی تصویروں کو پہچانیں اور ان کے نام لکھیں۔

(4)



سوال نمبر 2۔ نیچے دی گئی تصویروں کو پہچانیں اور ان کے نام لکھیں۔

(4)



چوتھا مہینا، پہلا ہفتہ، چوتھا دن

اسلیبس: باب نمبر 9: مویشی

سوال نمبر 1۔ درج ذیل سوالات کے مختصر جواب لکھیں۔

(3x2=6)

(i) مویشی کون پالتا ہے؟

-----

-----

(ii) ہمیں چمڑا کیسے حاصل ہوتا ہے؟

-----

-----

(iii) دودھ دینے والے جانوروں کا نام لکھیں۔

-----

-----

-----